

Académie :	Session :
Examen :	Série :
Spécialité/option :	Repère de l'épreuve :
Epreuve/sous épreuve :	
NOM :	
<small>(en majuscule, suivi s'il y a lieu, du nom d'épouse)</small>	
Prénoms :	
Né(e) le :	n° du candidat
	(le numéro est celui qui figure sur la convocation ou liste d'appel)

DANS CE CADRE

NE RIEN ECRIRE

## PRÉPARATION TECHNOLOGIE

### COMPÉTENCES ÉVALUÉES

- C1.1 Collecter les données de la demande
- C2.3 Proposer un plan de travail
- C3.2 Effectuer des opérations de préparation, débit

Un client vient vous consulter pour la confection d'une housse de protection pour le siège conducteur de son véhicule.

### ON VOUS REMET :

- Un plan d'ensemble (2/6)
- Un questionnaire (3/6 et 4/6)
- Une fiche pour établir le plan de coupe (5/6)
- Une fiche de travail (6/6)

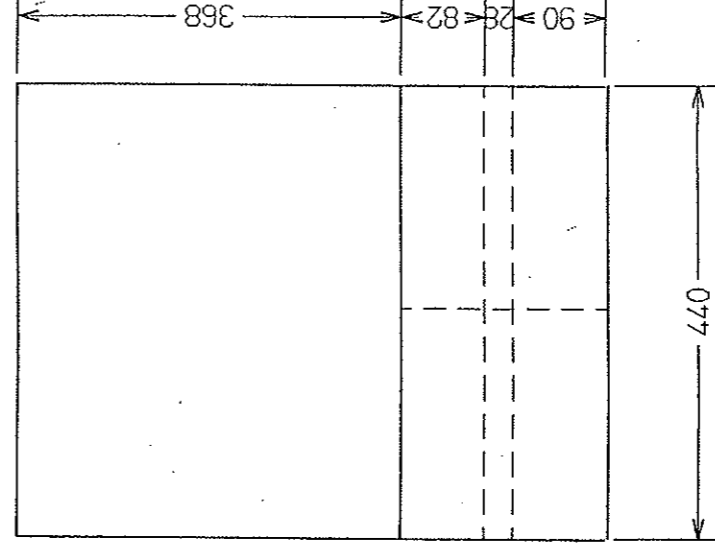
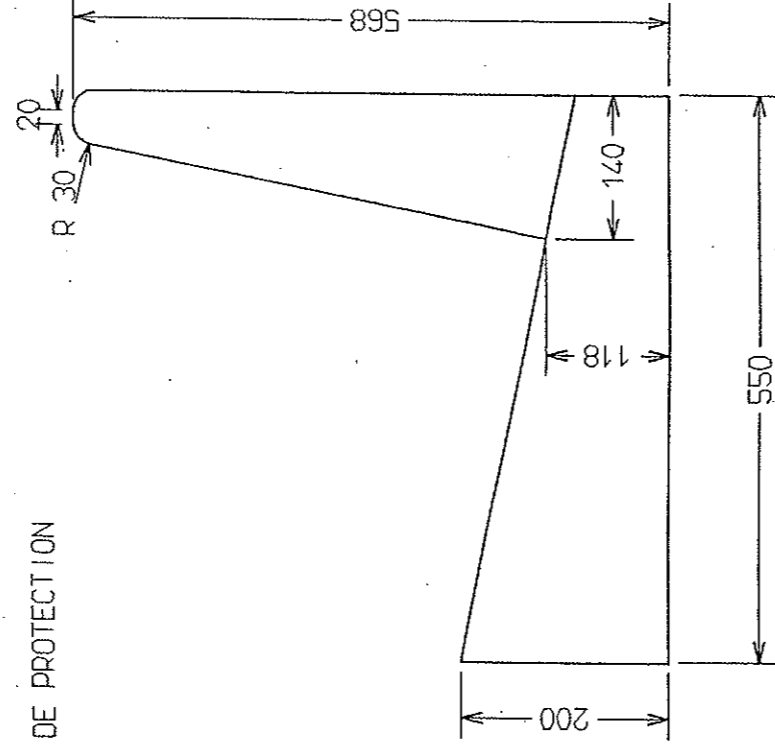
### ON VOUS DEMANDE :

- De décoder le sujet
- De répondre au questionnaire
- D'établir le plan de coupe
- D'établir le plan de travail

CAP SELLERIE GÉNÉRALE			
EPI : PRÉPARATION, MISE EN ŒUVRE, ARTS APPLIQUÉS		SUJET	
Durée : 2 heures	Code : 50 24 318	Coefficient : 10	Page 1/6
		SESSION 2006	

NE RIEN ECRIRE DANS CETTE PARTIE


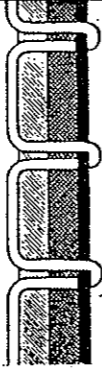

HOUSSE DE PROTECTION



NE RIEN ECRIRE DANS CETTE PARTIE

### QUESTIONNAIRE

- 1) Etablir sur le document page 5/6 le plan de coupe nécessaire pour confectionner la housse échelle 1/10°
- 2) Remplir le tableau ci-dessous et indiquer le numéro correct du réglage pour le montage de la housse.

	CAUSES	REMEDES
1		
2		
3		

Numéro du réglage : \_\_\_\_\_

- 3) Quelles sont les opérations destinées à éviter l'effilochage après la coupe des matières ?
- \_\_\_\_\_
- \_\_\_\_\_

- 4) La housse de protection pour le siège conducteur a été vandalisée d'un coup de cutter.  
Une réparation rapide et provisoire s'impose.  
Des solutions proposées ci-dessous laquelle allez vous choisir ?

**Entourer et justifier votre réponse.**

Machine à coudre      point caché      point de boutonnière

Point dent de chien      point va et vient      agrafe C

\_\_\_\_\_

\_\_\_\_\_

\_\_\_\_\_

\_\_\_\_\_

NE RIEN ECRIRE DANS CETTE PARTIE

5) Avant de poser la housse sur le siège vous devez nettoyer la garniture avec un produit à base de solvant.

Vous avez à votre disposition :

masque (papier)

gants de sécurité

tablier en cuir

espace aéré

combinaison

cabine de collage

Citer les moyens de protection que vous allez choisir.

Justifier vos choix.

6) En rangeant des outils votre camarade se blesse à la main, la plaie n'est pas très grave. Vous proposez de le soigner. Comment et avec quoi désinfectez-vous la plaie ?

Cocher les réponses exactes :

Vous désinfectez la plaie :

Avec du coton et du mercryl laurylé.

Avec une compresse stérile et de l'alcool à 90°.

En allant du centre vers l'extérieur de la plaie.

Avec une compresse stérile et de l'eau oxygénée.

Le tour de la plaie puis la plaie.


NE RIEN ECRIRE DANS CETTE PARTIE

**PLAN DE COUPE POUR LA CONFECTION D'UNE HOUSSE**

Dessiner à l'échelle 1/10 les éléments sans tenir compte des arrondis

Matière : TEP en 1 m 40 de large

Prise de piqure : 10 mm



NE RIEN ECRIRE DANS CETTE PARTIE

### FICHE DE TRAVAIL

ENSEMBLE : \_\_\_\_\_

SOUS ENSEMBLE : \_\_\_\_\_

OP	DÉSIGNATIONS DES OPERATIONS	MATÉRIEL	OBSERVATIONS